

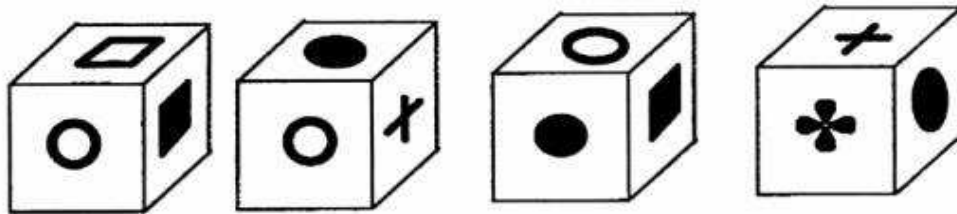
Défi n°3:

Exercice n°1 :

Chacun des dessins suivants figure sur une face d'un cube :



Voici 4 positions différentes de ce cube :



Quel dessin est sur la face opposée à chaque figure?

Exercice 2:

Quel est le rectangle qui contient le plus de triangles ? (Ils peuvent se superposer)

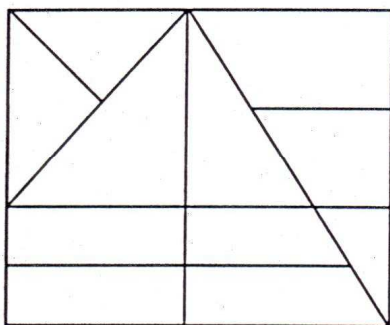


figure A

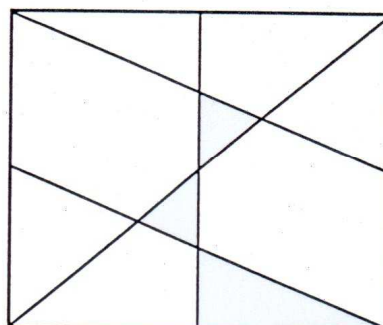


figure B

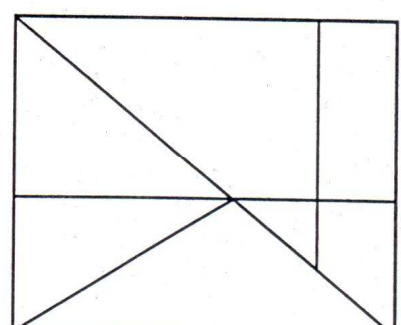


figure C